

Associer problème et schéma 1

Séance 73

→ Associe chaque problème au bon schéma.


1. La ville installe un lampadaire tous les 10 mètres dans une rue qui mesure 320 mètres.

Combien y a-t-il de lampadaires ?


2. Le jardinier plante 4 rangées de 13 fleurs. **Combien de fleurs y a-t-il en tout ?**

3. Papy a 738 timbres dans sa collection et son ami en a 472. **Combien de timbres ont-ils s'ils réunissent leurs collections ?**

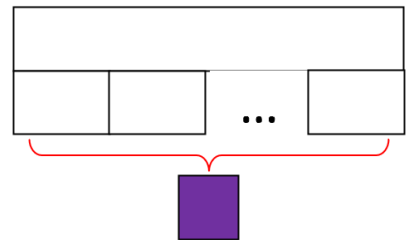
A



B



C



Associer problème et schéma 1

Séance 73

→ Associe chaque problème au bon schéma.


1. La ville installe un lampadaire tous les 10 mètres dans une rue qui mesure 320 mètres.

Combien y a-t-il de lampadaires ?


2. Le jardinier plante 4 rangées de 13 fleurs. **Combien de fleurs y a-t-il en tout ?**

3. Papy a 738 timbres dans sa collection et son ami en a 472. **Combien de timbres ont-ils s'ils réunissent leurs collections ?**

A



B



C

